

Prénom :

Date :

LES PROBLÈMES (2) (réunions)


Dans ce jardin, on trouve des fleurs rouges et des fleurs bleues. il y a 8 fleurs rouges.

Combien y a-t-il de fleurs bleues?

Phrase réponse:


Il y a

Dessin/calcul:



Boris a acheté 8€ de bonbons et 12€ de chocolats.

Combien Boris a-t-il dépensé ?



Phrase réponse:

Il a dépensé

Dessin/calcul:

Un martin pêcheur a attrapé 6 poissons le matin, 3 l'après-midi et 8 le soir.

Combien de poissons a-t-il attrapés dans la journée ?




Phrase réponse:

Il a attrapé

Dessin/calcul:

Dans une classe, en comptant la maîtresse, il y a 10 garçons et 10 filles.

Combien d'élèves y a-t-il ?



Phrase réponse:

Il y a

Dessin/calcul:

Continue la frise.

