

Prénom :

Date :

L'ADDITION (3) (compter à l'aide des tables)

1- Calcule avec la méthode des bonds.



$4 + 3 = \dots$

$14 + 3 = \dots$

$24 + 3 = \dots$

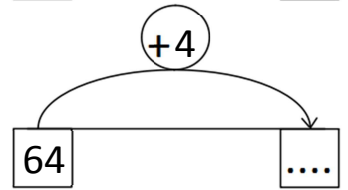
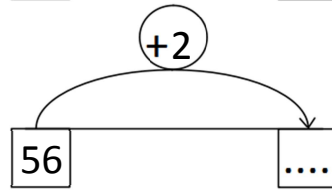
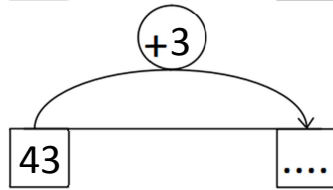
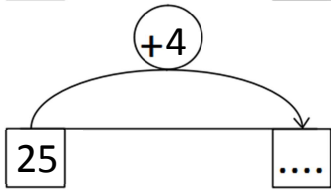
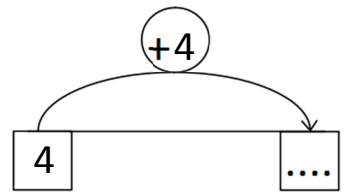
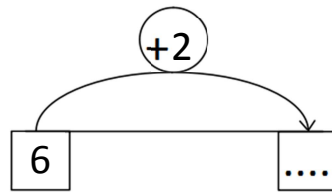
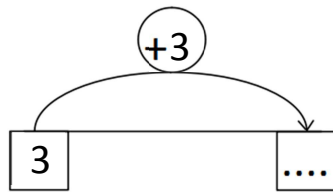
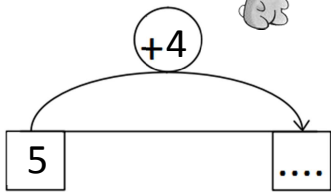
$34 + 3 = \dots$

2- Écris tous les calculs que tu peux faire en t'aidant du premier.



$3 + 2 = 5$
$13 + 2 = 15$
$23 + 2 = 25$
.....
.....

3- Complète.



4- Écris les résultats des additions.

$3 + 6 = \dots$ donc $23 + 6 = \dots$

$2 + 4 = \dots$ donc $32 + 4 = \dots$

$1 + 7 = \dots$ donc $41 + 7 = \dots$

$5 + 3 = \dots$ donc $65 + 3 = \dots$



RÉVISIONS Reproduis la cloche à la règle.

