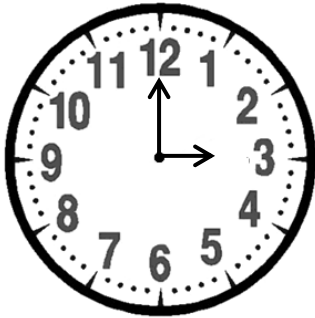


Prénom :

Date :

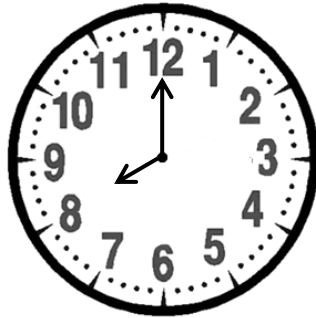
LIRE L'HEURE (la valeur « pile », le matin et l'après-midi)

1- **Complète** comme dans l'exemple.



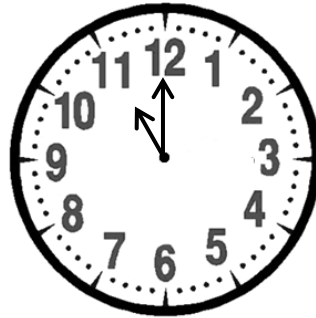
03 : 00

3 heures (3h)




.....

.....



.....

.....



.....

.....

2- **Observe** les heures du matin et celles de l'après-midi et **complète**.

6 heures du matin = 6 heures (6h)

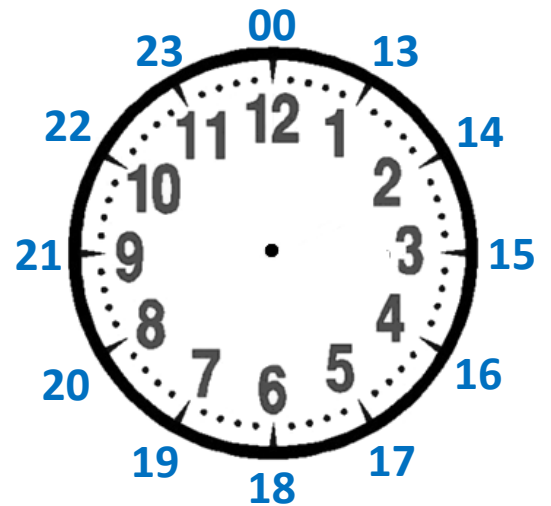
6 heures du soir = 18 heures (18h)

9 heures du matin =

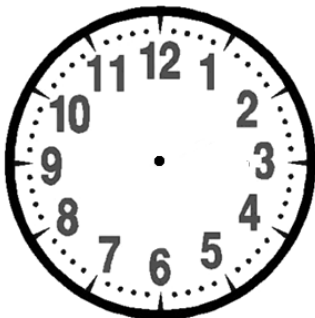
9 heures du soir =

2 heures du matin =

2 heures de l'après-midi =

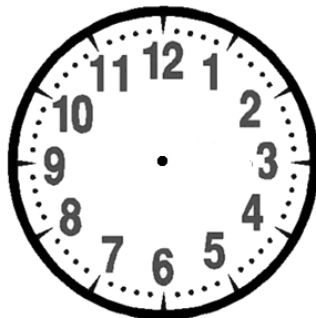


3- **Complète** l'écriture de l'heure et **dessine** la petite et la grande aiguille.



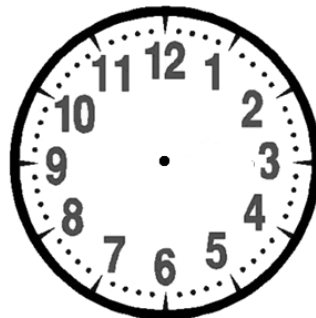
06 : 00

.....



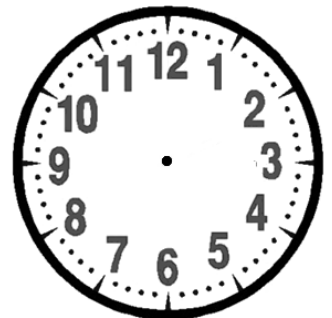
13 : 00

.....



.....

19 heures (19h)



.....

22 heures (22h)

RÉVISIONS **Complète** la suite et le panneau.

