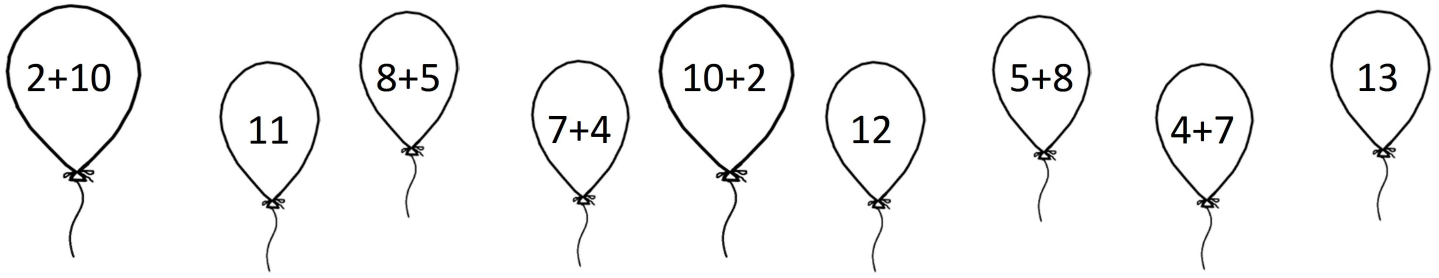


Prénom :

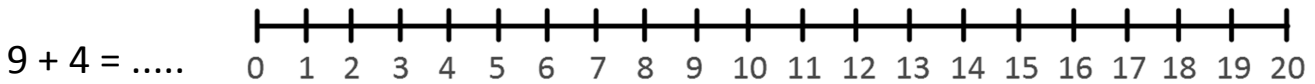
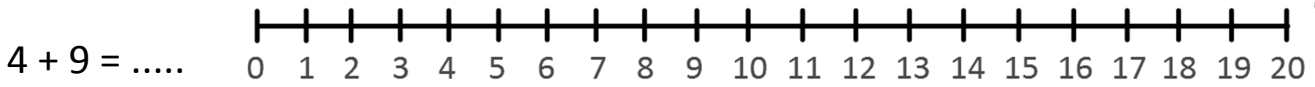
Date :

L'ADDITION (2) (le surcomptage)

1- **Dessine** une fléchette de la même couleur sur les ballons du même nombre.

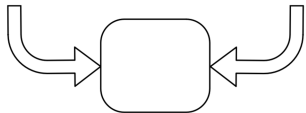


2- **Calcule** avec la méthode des bonds.

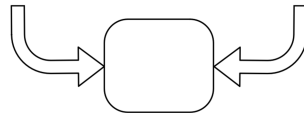


3- **Entoure** le calcul que tu choisis de faire puis **écris** le résultat.

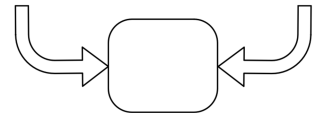
$8 + 4$ ou $4 + 8$



$5 + 11$ ou $11 + 5$



$2 + 7$ ou $7 + 2$



4- **Écris** les résultats des additions.

$6 + 5 = \dots$

$6 + 8 = \dots$

$2 + 15 = \dots$


$7 + 10 = \dots$

$0 + 14 = \dots$

$11 + 4 = \dots$

$3 + 13 = \dots$

$5 + 16 = \dots$



RÉVISIONS Complète.

