


Prénom :

Date :

CE QUI FAIT 6, 7, 8 et 9

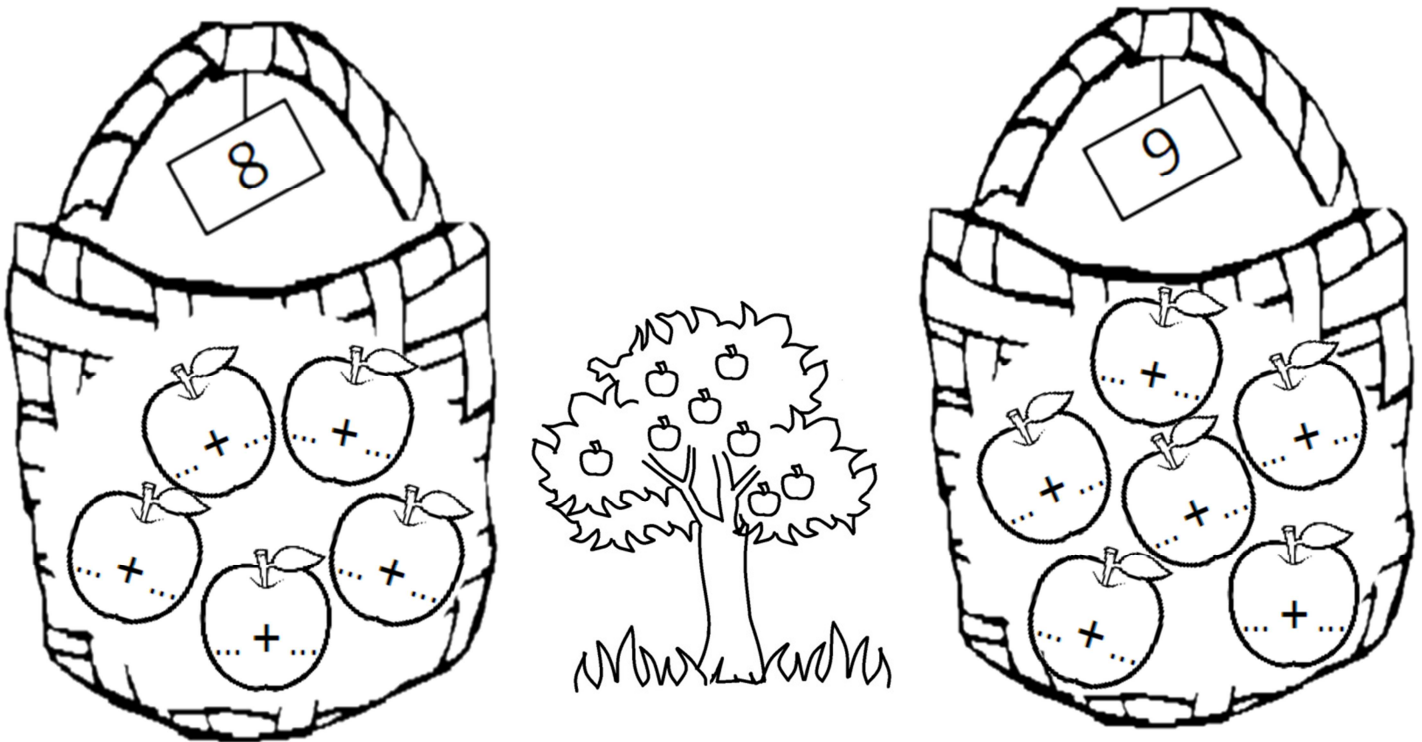
1- **Colorie** les yeux des robots en suivant le code couleur: rouge = 6 | bleu = 7

Attention aux pièges.



2- **Écris** des additions différentes sur chaque pomme.

Attention, tu n'as pas le droit d'utiliser les chiffres 0 et 1.




3- **Écris** les résultats des additions.

Entoure ceux que tu connais par cœur.

$4 + 2 = \dots$ $4 + 3 = \dots$ $4 + 4 = \dots$ $4 + 5 = \dots$

$5 + 1 = \dots$ $5 + 2 = \dots$ $5 + 3 = \dots$ $5 + 4 = \dots$



RÉVISIONS Reproduis la fusée à la règle.

