

Prénom :

Date :

LES TABLEAUX DE CALCULS

1- Complète les tableaux de calculs.

	2	5	7
10
4
1



	3	5	...
6	10
0	4
8	12

	3	1	2
8
6
10

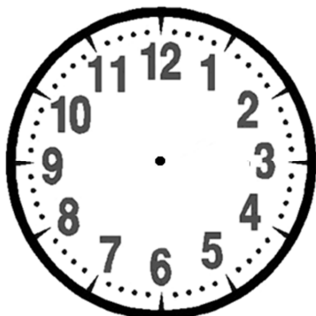
	0	5	...
7	5
5	3
9	7

RÉVISIONS Dessine des pièces et des billets pour acheter l'objet.

Essaye d'en dessiner le moins possible.

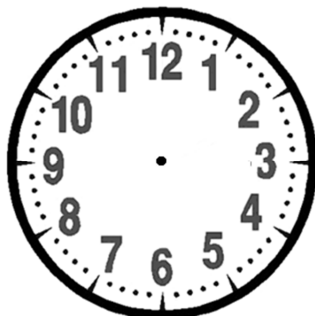


RÉVISIONS Complète l'écriture de l'heure et dessine les aiguilles.



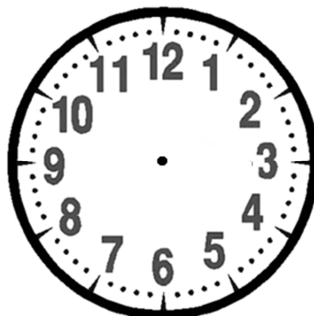
10 : 00

.....




13 : 00

.....



.....

5 heures (5h)



.....

23 heures (23h)

RÉVISIONS Reproduis les points sur les nœuds et trace la cabane à la règle.

