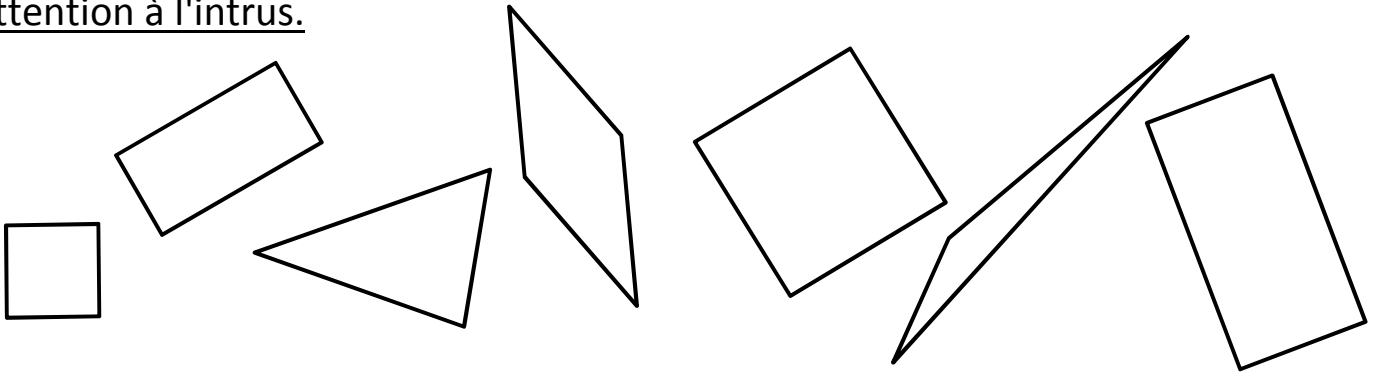


Prénom : .....  
Date : .....

# LE TRIANGLE, LE CARRÉ ET LE RECTANGLE

1- **Colorie** les triangles en vert, les carrés en rouge et les rectangles en bleu.

Attention à l'intrus.



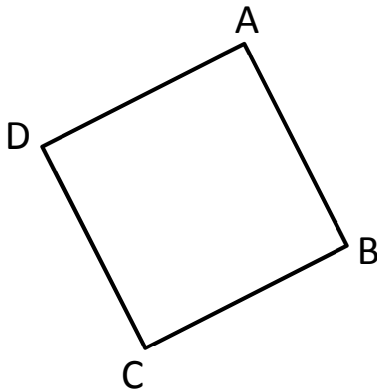
2- **Mesure** les côtés du carré et du rectangle.

**Repasse** de la même couleur les côtés qui ont la même longueur.



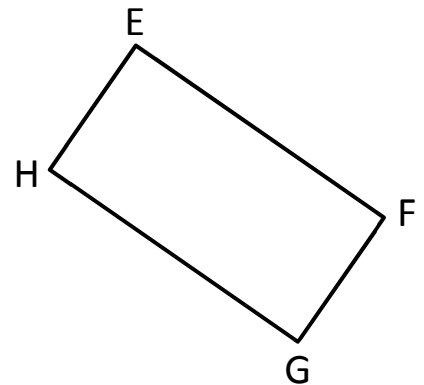
un carré

AB = .....  
BC = .....  
CD = .....  
DA = .....



un rectangle

EF = .....  
FG = .....  
GH = .....  
HE = .....



3- **Trace** avec ta règle.

Un triangle dont un côté mesure 5 cm.

Un triangle avec deux côtés qui ont la même longueur.

**RÉVISIONS** Écris les résultats des additions.

$400 + 50 + 8 = \dots$

$200 + 80 = \dots$

$10 + 700 + 3 = \dots$

$600 + 20 + 4 = \dots$

$500 + 7 = \dots$

$1 + 60 + 200 = \dots$

$900 + 90 + 9 = \dots$

$800 + 5 = \dots$

$40 + 300 = \dots$

