

Prénom :

Date :

LA SOUSTRACTION (4) (à l'aide des tables)

1- Calcule avec la méthode des bonds.



7 - 3 =

17 - 3 =

27 - 3 =

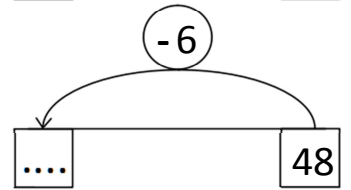
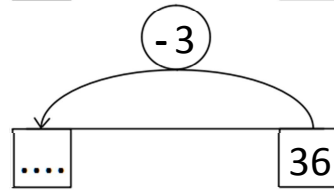
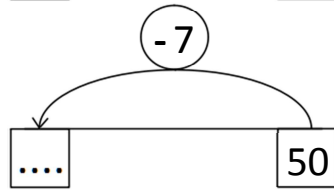
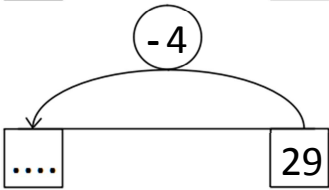
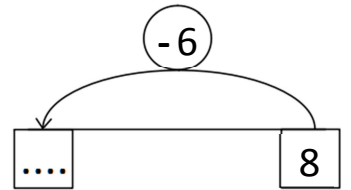
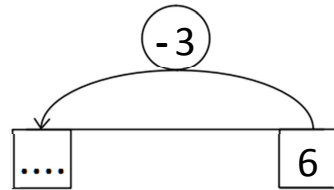
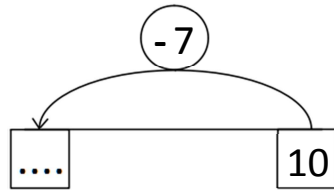
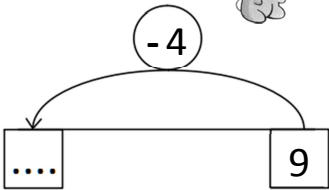
37 - 3 =

2- Écris tous les calculs que tu peux faire en t'aidant du premier.



$8 - 3 = 5$
$18 - 3 = 15$
$28 - 3 = 25$
.....
.....

3- Complète.



4- Écris les résultats des soustractions.

4 - 3 = donc $34 - 3 = \dots$

7 - 4 = donc $27 - 4 = \dots$

8 - 4 = donc $48 - 4 = \dots$

9 - 2 = donc $59 - 2 = \dots$



RÉVISIONS Reproduis les points sur les nœuds. Trace ensuite la fusée à la règle.

