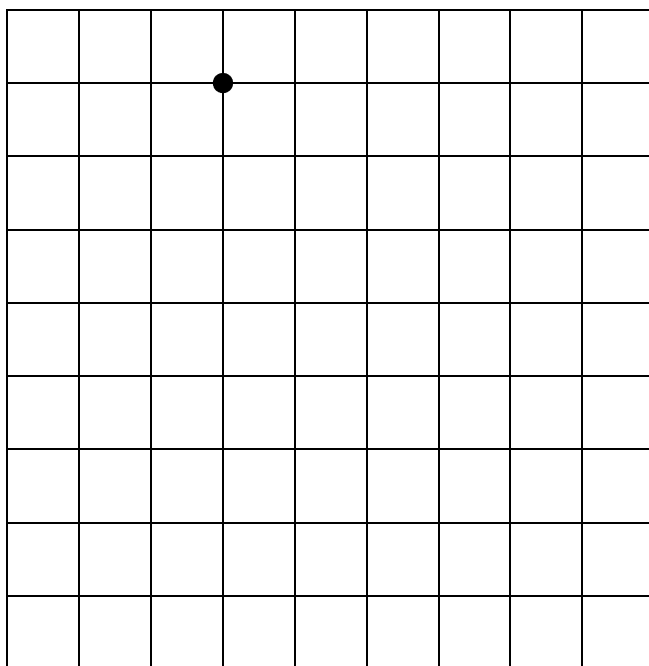
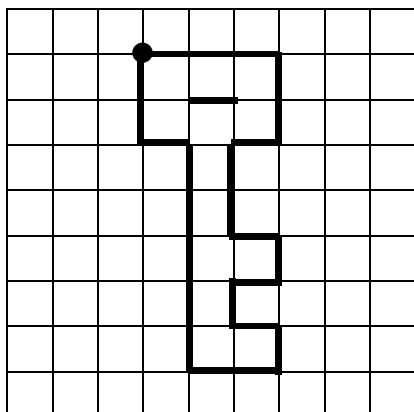


Prénom :

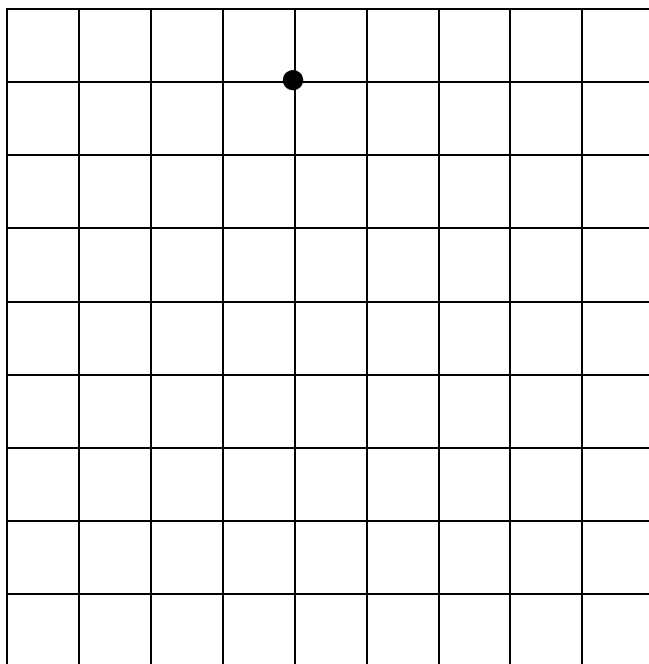
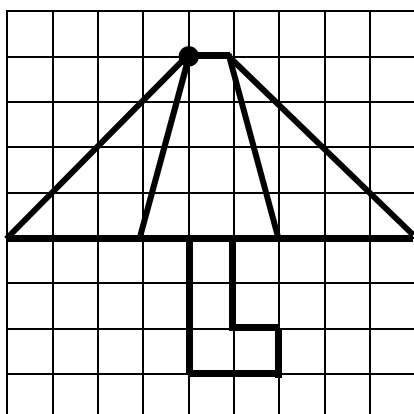
Date :

AGRANDIR UNE FIGURE

1- Agrandis la clé.



2- Agrandis le parapluie.



RÉVISIONS Calcule avec la méthode de ton choix.



$87 + 10 = \dots$

$68 + 30 = \dots$

$36 + 40 = \dots$

RÉVISIONS Écris les résultats de la table de 2.

$2 \times 8 = \dots$

$2 \times 6 = \dots$

$2 \times 9 = \dots$

$7 \times 2 = \dots$