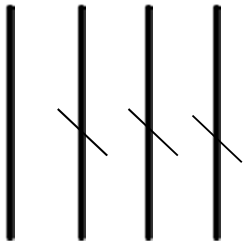


Prénom :

Date :

RETIRER DES DIZAINES

1- Calcule avec la méthode des quantités.



$40 - 30 = \dots$

$90 - 60 = \dots$

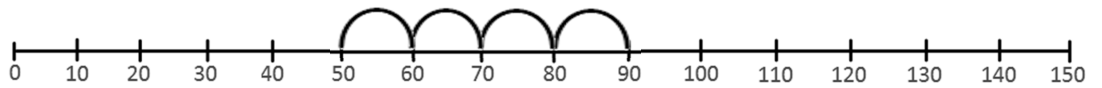
$100 - 40 = \dots$

$120 - 30 = \dots$

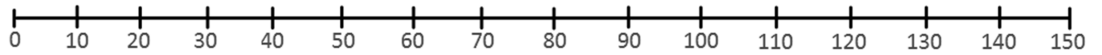
2- Calcule avec la méthode des bonds.



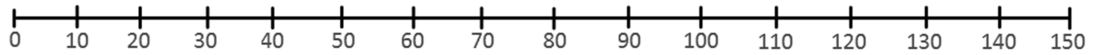
$90 - 40 = \dots$



$110 - 30 = \dots$



$150 - 60 = \dots$



3- Calcule avec l'astuce.



$5 - 2 = 3 \text{ donc } \underline{50} - \underline{20} = \underline{30}$

$10 - 5 = \dots \text{ donc } \underline{100} - \underline{50} = \dots$

$8 - 3 = \dots \text{ donc } \underline{80} - \underline{30} = \dots$

$12 - 3 = \dots \text{ donc } \underline{120} - \underline{30} = \dots$

4- Calcule avec la méthode de ton choix.



$80 - 50 = \dots$

$100 - 60 = \dots$

$130 - 40 = \dots$

RÉVISIONS Trouve des points alignés et complète les phrases.

..... sont alignés.

B
x

..... sont alignés.

A
x

C
x

D
x

F
x

E
x

G
x

H
x