
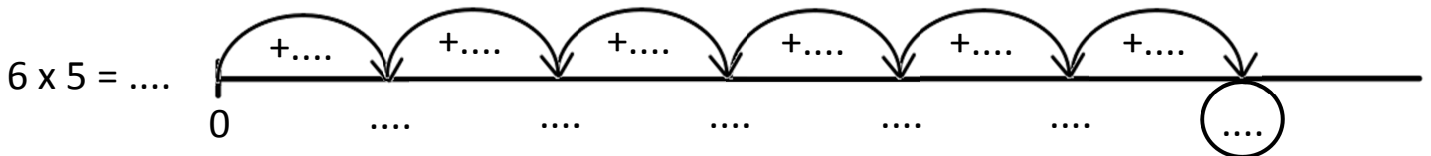
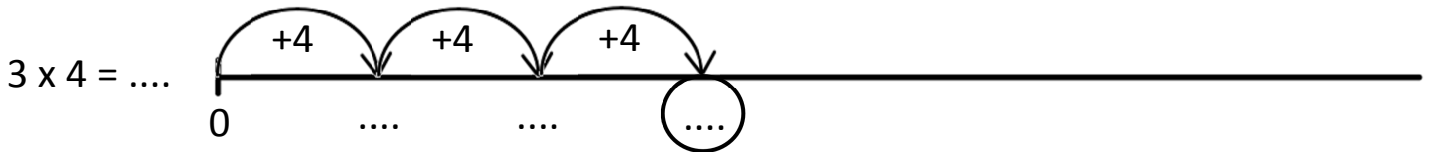
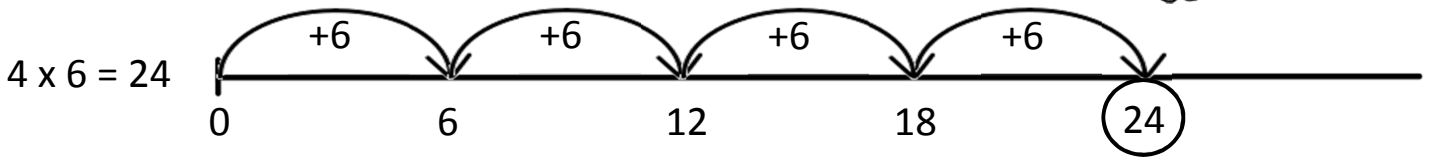


Prénom :

Date :

LA MULTIPLICATION (3)

1- **Complète** comme dans l'exemple.



2- **Colorie** de la **même couleur** les yeux des robots qui portent le **même nombre**.

3- **Écris** les résultats des multiplications.

Entoure les résultats que tu connais par cœur.

- | | | | |
|----------------------|----------------------|-----------------------|----------------------|
| $2 \times 6 = \dots$ | $9 \times 1 = \dots$ | $5 \times 2 = \dots$ | $3 \times 3 = \dots$ |
| $8 \times 2 = \dots$ | $5 \times 0 = \dots$ | $2 \times 10 = \dots$ | $1 \times 8 = \dots$ |

