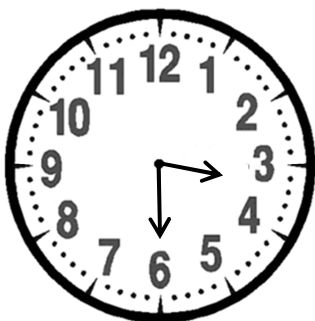


Prénom :

Date :

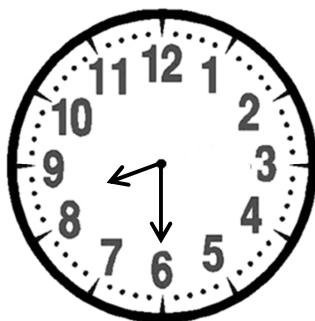
LIRE L'HEURE (2) (les valeurs « pile » et « et demie »)

1- **Complète** comme dans l'exemple.



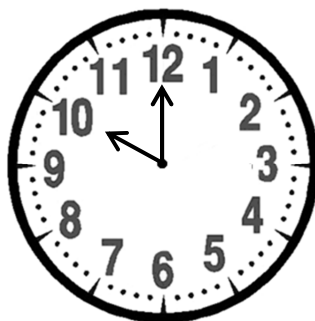
03 : 30

3 heures et demie



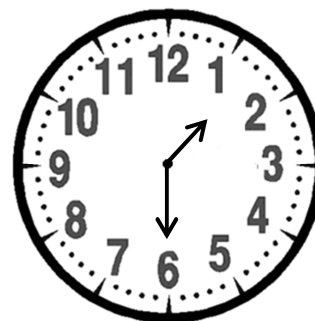
.....

.....



.....

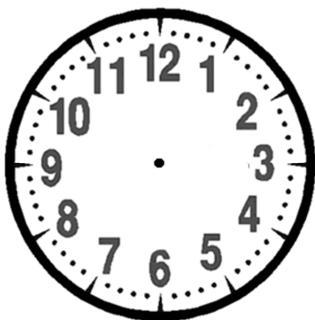
.....



.....

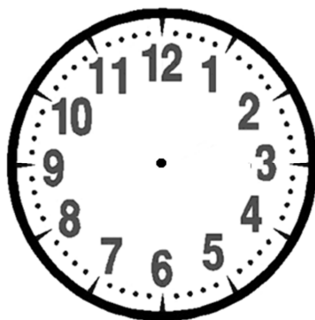
.....

2- **Complète** l'écriture de l'heure et **dessine** la petite et la grande aiguille.



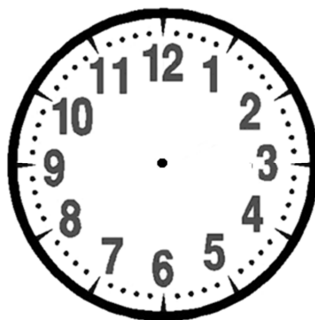
05 : 30

.....




11 : 00

.....



.....

9 heures et demie



.....

midi et demi

RÉVISIONS Pose et calcule.



$257 \times 3 = \dots$

$508 + 647 = \dots$

C	D	U

C	D	U

RÉVISIONS Trace un carré dont les

côtés mesurent 4 centimètres.



RÉVISIONS Complète la suite et le panneau.

