

Prénom :

Date :

LA SOUSTRACTION EN COLONNES



1- Pose et calcule.

$45 - 21 = \dots$

D	U
.	.
-	.
<hr/>	
=	.

$94 - 53 = \dots$

D	U
.	.
-	.
<hr/>	
=	.

$75 - 35 = \dots$

D	U
.	.
-	.
<hr/>	
=	.

$89 - 16 = \dots$

D	U
.	.
-	.
<hr/>	
=	.

2- Pose comme dans l'exemple et calcule.

$39 - 25 = 14$

D	U
3	9
-	2 5
<hr/>	
=	1 4

$64 - 50 = \dots$

D	U

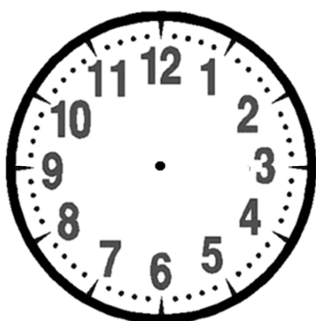
$97 - 82 = \dots$

D	U

$78 - 45 = \dots$


D	U

RÉVISIONS Complète l'écriture de l'heure et dessine les aiguilles.




02 : 00

.....




08 : 30

.....



.....

11 heures et demie



.....

4 heures et demie

RÉVISIONS Complète avec m ou cm.

Une fourmi mesure 1

La longueur d'un camion est de 6

Une télévision mesure environ 70

