

Prénom : .....

Date : .....

# LA MONNAIE (4)


Les centimes (100 centimes = 1 euro)



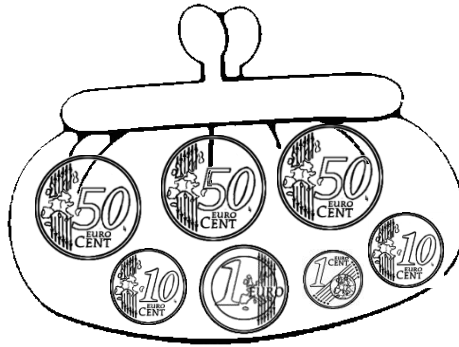
Les euros



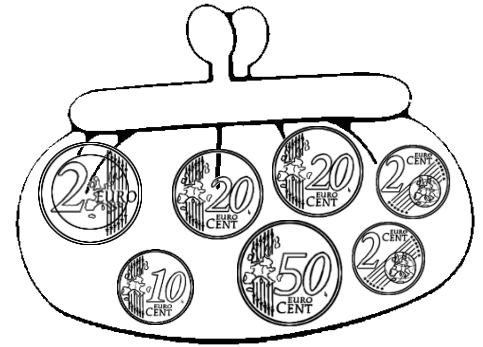
**1- Fais des paquets de 1 € et écris la somme que contient chaque porte-monnaie.**



..... € ..... c

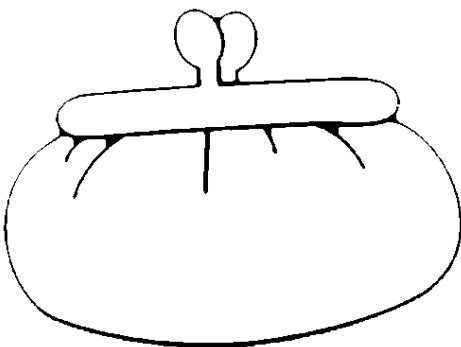


..... € ..... c

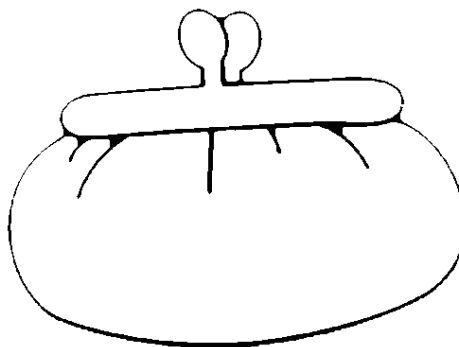


..... € ..... c

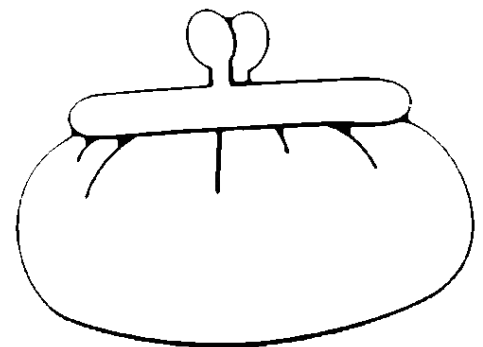
**2- Dessine la somme que contient chaque porte-monnaie.**



12 € 45 c



5 € 91 c



21 € 63 c

**3- Dessine des pièces et des billets pour acheter l'objet.**

Essaye d'en dessiner le moins possible.

