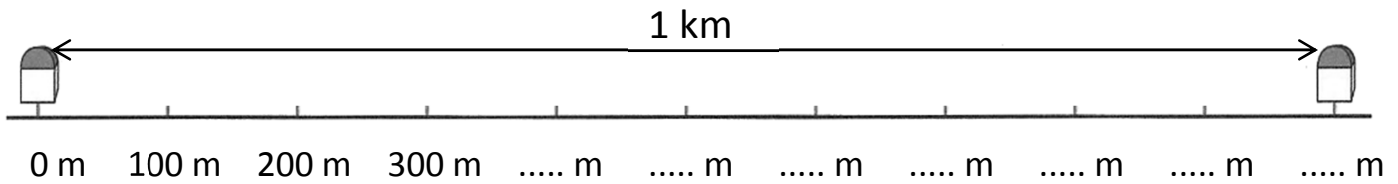


Prénom : .....

Date : .....

# LE KILOMÈTRE

1- Voici les bornes qu'on peut observer au bord de la route. Entre les deux bornes, il y a un kilomètre. **Complète.**




1 kilomètre, c'est ..... mètres.

On écrit  $1 \text{ km} = \text{..... m}$



2- **Complète** avec **m** ou **km**.

Un requin peut mesurer 5 .....



Quand on marche une heure, on parcourt 3 .....



Melvin habite à 500 ..... de l'école.

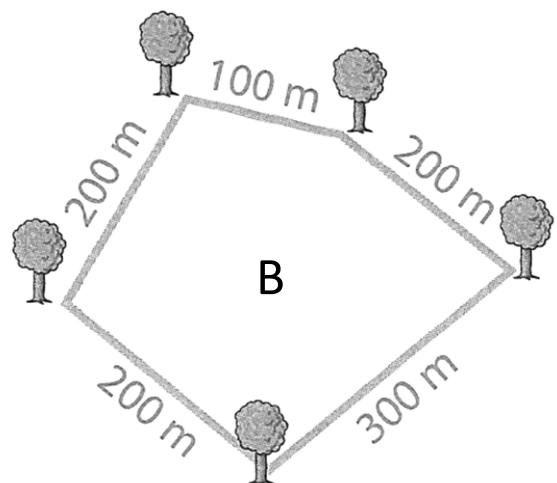
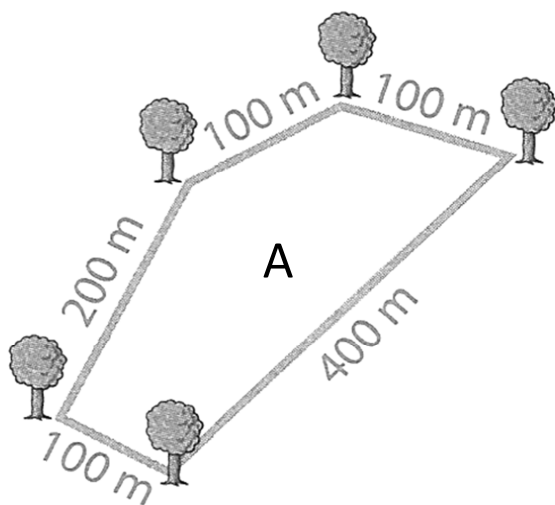


La France mesure 1000 ..... du nord au sud.

Une piscine peut mesurer 20 .....

Une table mesure 1 ..... de haut.

3- Voici deux parcours de course à pieds. **Calcule** la longueur de chaque parcours.



Le parcours A mesure ..... + ..... + ..... + ..... + ..... = ..... m

Le parcours B mesure ..... + ..... + ..... + ..... + ..... = ..... m

Quel parcours mesure 1 kilomètre ? .....