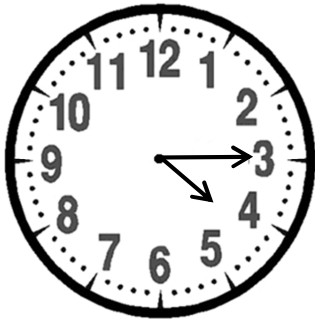


Prénom :
 Date :

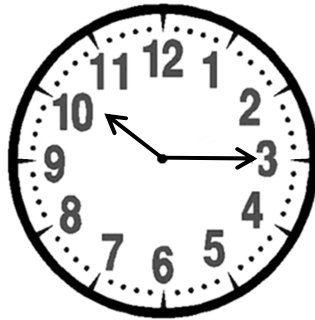
LIRE L'HEURE (3) (les valeurs « pile », « et quart » et « et demie »)

1- **Complète** comme dans l'exemple.



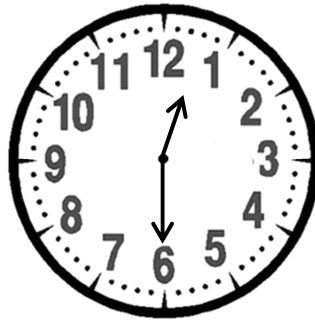
04 : 15

4 heures et quart



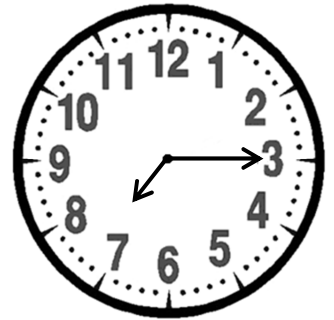
.....

.....



.....

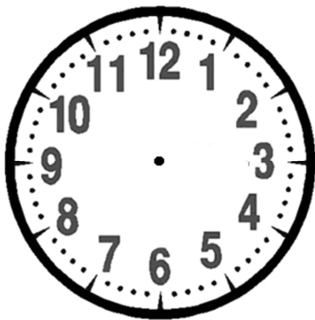
.....



.....

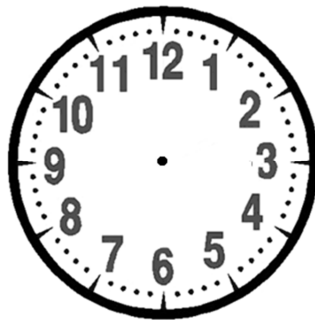
.....

2- **Complète** l'écriture de l'heure et **dessine** la petite et la grande aiguille.



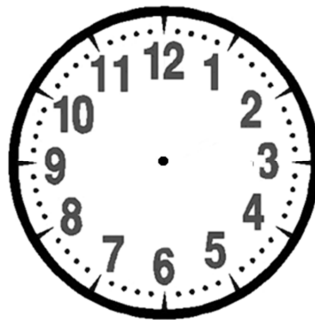
05 : 15

.....



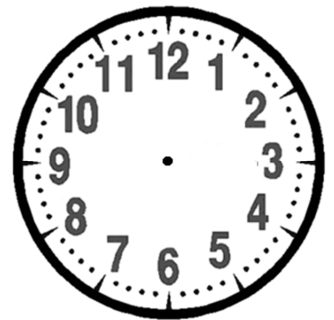
08 : 00

.....



.....

2 heures et demie



.....

6 heures et quart

RÉVISIONS Pose et calcule.



$125 \times 4 = \dots$

$241 - 137 = \dots$

C	D	U

C	D	U

RÉVISIONS Trace un triangle rectangle

dont un côté mesure 3 centimètres.



RÉVISIONS Complète la suite et le panneau.

