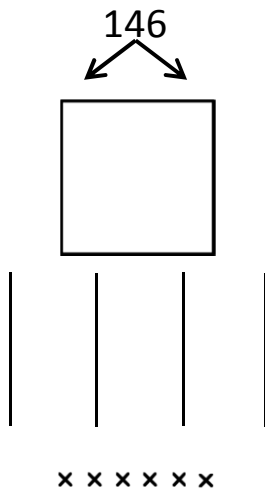


Prénom : .....

Date : .....

## DIVISER PAR 2

1- **Calcule** la **moitié** de 146 et **complète**.

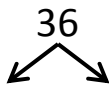


146 divisé par 2, c'est .....

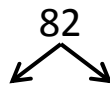
On écrit  $146 : 2 = \dots$



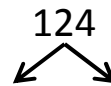
2- **Calcule** la **moitié** de chaque nombre et **écris** le résultat de la division.



$36 : 2 = \dots$



$82 : 2 = \dots$



$124 : 2 = \dots$

3- **Écris** les résultats des divisions.

**Entoure** ceux que tu connais par cœur.

$6 : 2 = \dots$

$10 : 2 = \dots$

$8 : 2 = \dots$


$4 : 2 = \dots$

$0 : 2 = \dots$

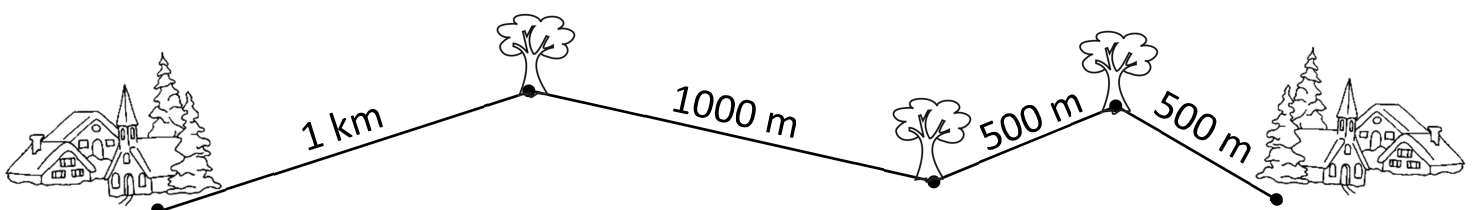
$2 : 2 = \dots$

$20 : 2 = \dots$

$100 : 2 = \dots$



**RÉVISIONS** Voici une route entre deux villages. **Calcule** sa longueur.



La route mesure .....