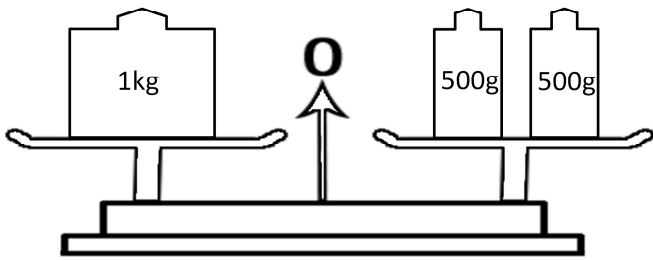


Prénom :

Date :

LE KILOGRAMME

1- Observe la balance et **complète** la bulle.

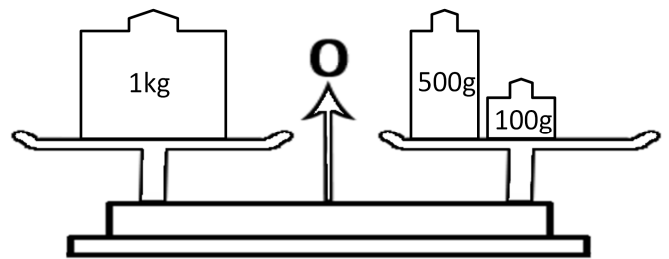
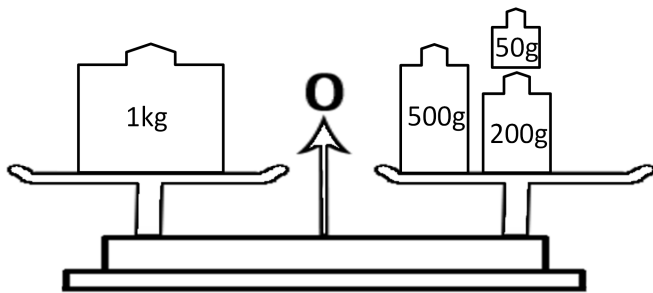
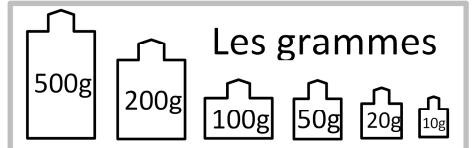


1 kilogramme, c'est grammes.

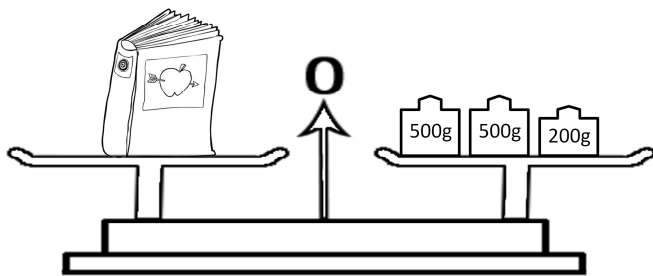
On écrit $1 \text{ kg} = \dots \text{ g}$



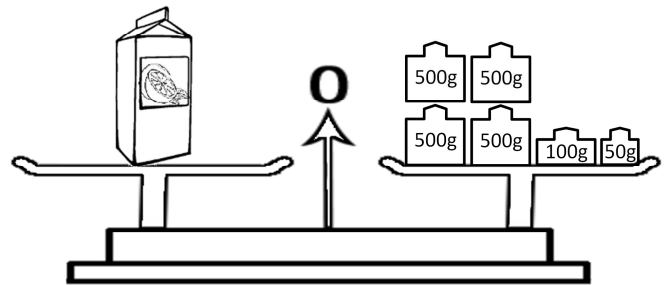
2- **Ajoute** des masses marquées pour obtenir 1 kg.



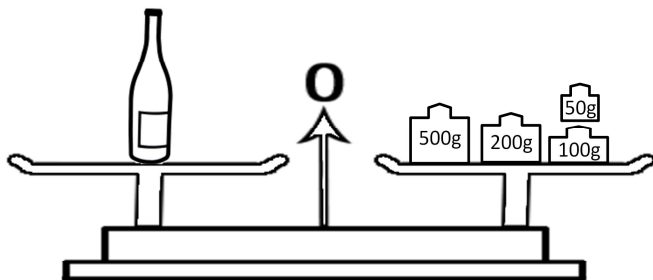
3- **Fais** des paquets de 1 kg et **calcule** la masse de chaque objet.



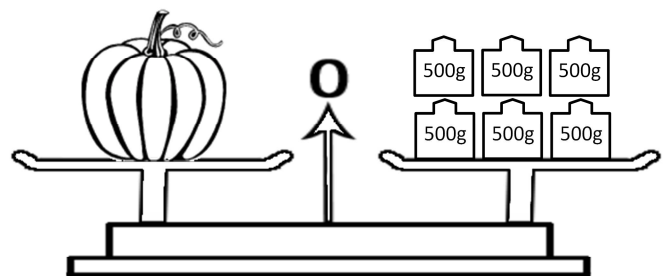
..... kg et g



..... kg et g



..... kg et g



..... kg et g

4- **Complète** avec **g** ou **kg**.

Une plume pèse 2



Une fraise pèse 20



Un paquet de farine pèse 1000



Un lion pèse 200



Le directeur pèse 80



Un pamplemousse pèse 400

