




Prénom :

Date :

NOMBRES PAIRS ET IMPAIRS

1- Colorie les yeux des robots. Rouge = Nombre pair Vert = Nombre impair



2- Barre les phrases qui sont fausses.

126 est un nombre pair.

855 est un nombre impair.

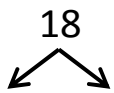
103 peut être partagé en deux.

710 est un nombre impair.

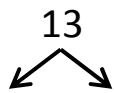
431 est un nombre pair.

94 peut être partagée en deux.

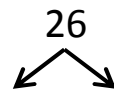
3- Partage en deux les nombres pairs. Barre les intrus qui sont impairs.



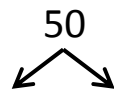
$18 : 2 = \dots$



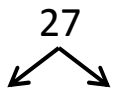
$13 : 2 = \dots$



$26 : 2 = \dots$



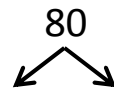
$50 : 2 = \dots$




$27 : 2 = \dots$



$44 : 2 = \dots$



$80 : 2 = \dots$



$112 : 2 = \dots$

RÉVISIONS Colorie pour que le dessin soit symétrique. R = rouge V = vert B = bleu J = jaune

