

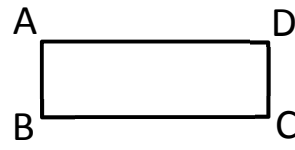
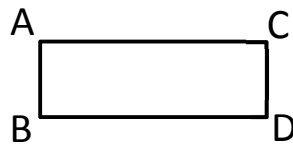
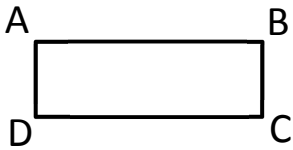
Prénom :

Date :

TRACER DES FIGURES

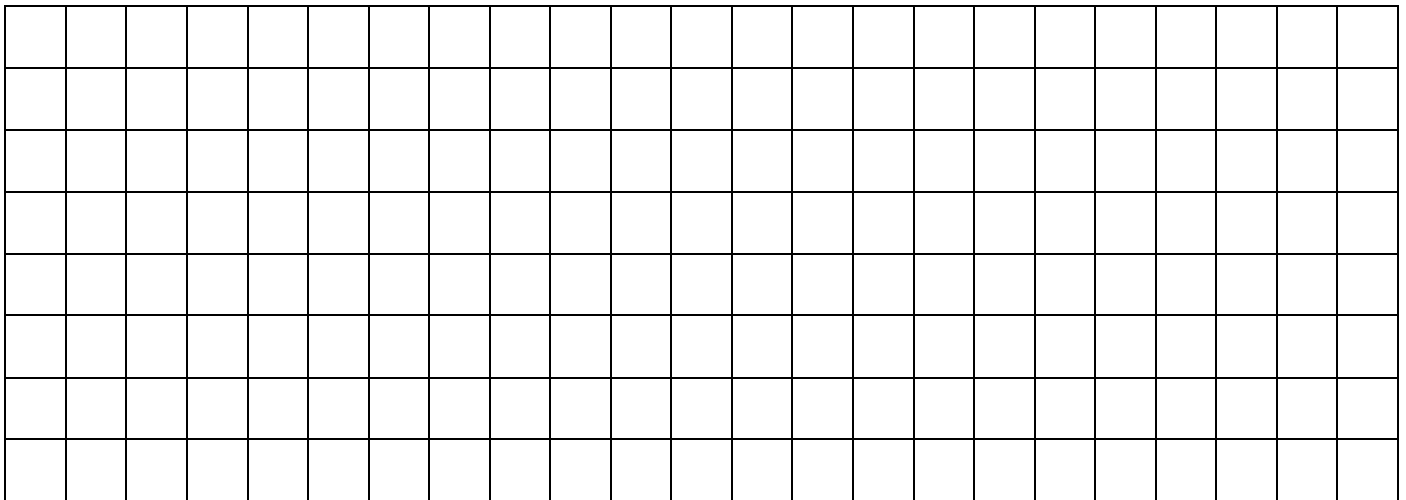
1- **Colorie** le rectangle du robot.

Mon rectangle s'appelle ABCD.
AB = 1 cm.



2- **Trace** un **carré** de 5 carreaux de côté.

Trace un **rectangle** de 6 carreaux de longueur et 3 carreaux de largeur.



3- **Trace** un **rectangle** ABCD tel que
AB = 4 cm et BC = 6 cm.



4- **Trace** un **triangle rectangle** EFG tel
que EF = 3 cm.



5- **Trace** les segments [HI], [IJ], [JK], [KH], [HJ] et [KI]. **Mesure-les et complète.**

H^x

I^x

HI =

KH =

IJ =

HJ =

JK =

KI =

HIJK est un

K^x

J^x

HIK est un