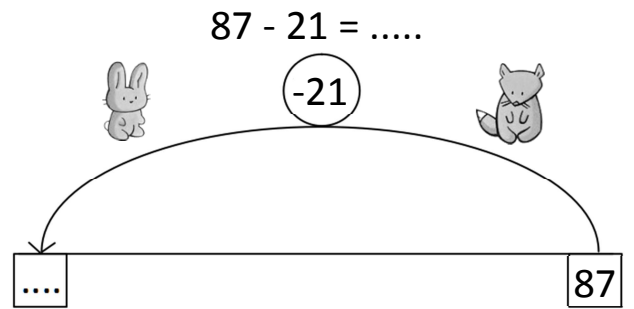
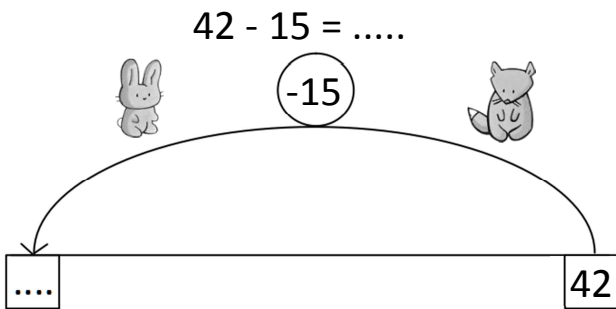
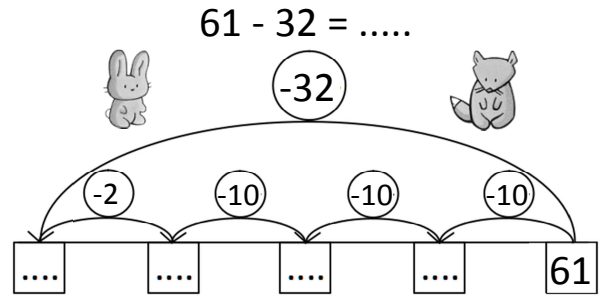
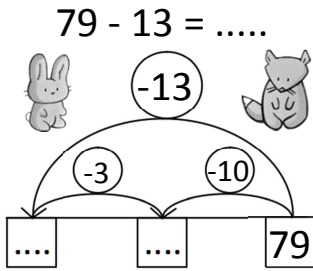


Prénom : .....

Date : .....

# LA SOUSTRACTION (8) (retirer 10 à 39 à un nombre < 100)

## 1- Calcule avec la méthode des bonds.



## 2- Calcule avec la méthode de ton choix.



$67 - 11 = \dots$

$84 - 34 = \dots$

$72 - 17 = \dots$

$50 - 23 = \dots$

\_\_\_\_\_

\_\_\_\_\_

\_\_\_\_\_

\_\_\_\_\_

## RÉVISIONS Dessine le symétrique.

