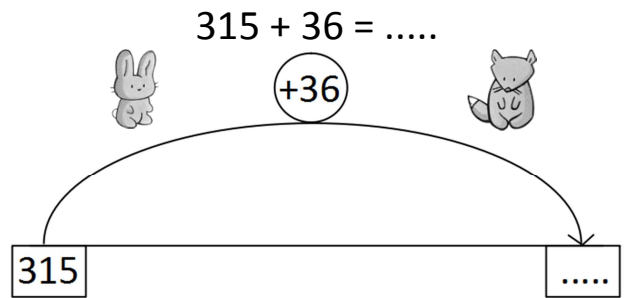
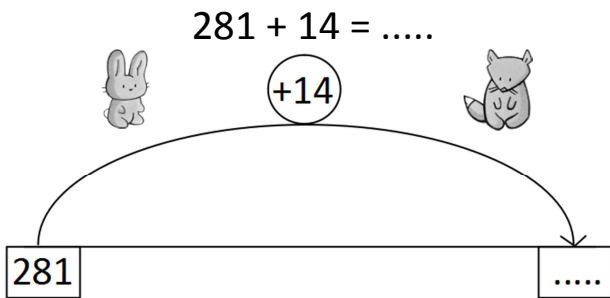
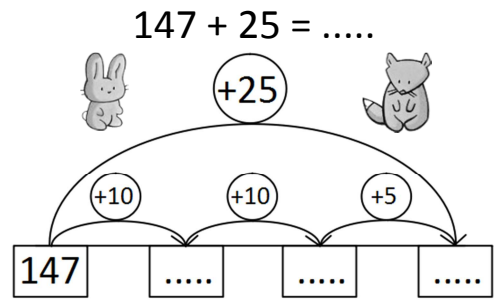
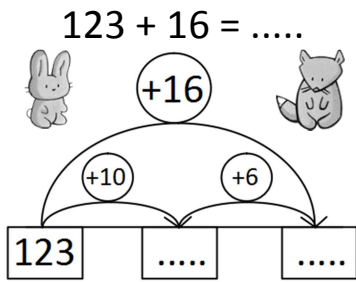


Prénom : .....

Date : .....

# L'ADDITION (10) (ajouter 10 à 39 à un nombre < 1000)

## 1- Calcule avec la méthode des bonds.



## 2- Calcule avec la méthode de ton choix.



$152 + 25 = \dots$

$201 + 37 = \dots$

$190 + 12 = \dots$

$19 + 341 = \dots$

**RÉVISIONS** Trace un carré ABCD tel que  $AB = 7 \text{ cm}$ .



Trace les diagonales [AC] et [BD].

Colorie en rouge tous les angles droits.

