

Prénom : .....

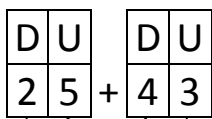
Date : .....

# LES ARBRES DE CALCULS

## 1- Complète les arbres.



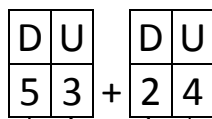
$25 + 43 = \dots$



..... + .....

.....

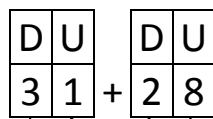
$53 + 24 = \dots$



..... + .....

.....

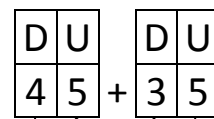
$31 + 28 = \dots$



..... + .....

.....

$45 + 35 = \dots$



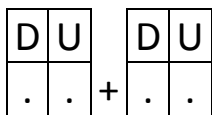
..... + .....

.....

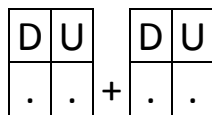
## 2- Dessine les arbres.



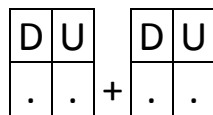
$47 + 51 = \dots$



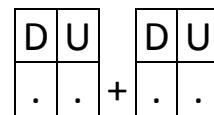
$36 + 24 = \dots$



$83 + 23 = \dots$



$16 + 52 = \dots$



## RÉVISIONS Observe le tableau et réponds aux questions.

Des enfants ont récolté des fruits et des légumes qu'ils avaient plantés.

	Tomates	Fraises	Potirons
Mathieu	7	12	2
Aline	10	14	1
Pablo	10	11	3
Samia	9	13	2
Lily	8	12	3
TOTAL	44	62	11

Combien de fraises Samia a-t-elle récoltées ?

.....

Combien de potirons Lily a-t-elle récoltés ?

.....

Combien de tomates les enfants ont-ils récoltés ?

.....