
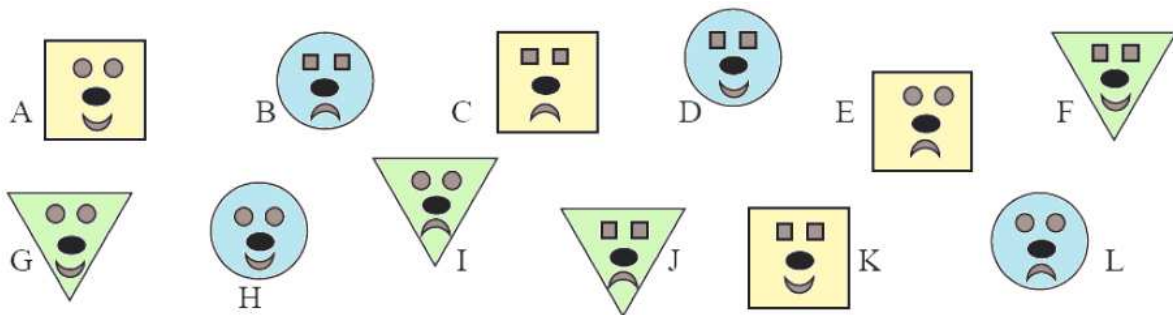


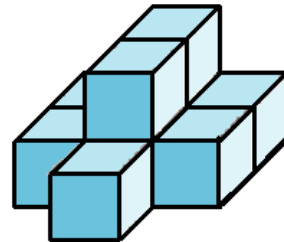
N°1 Trois ânes de promènent sur un chemin.
 Sur chaque âne, il y a deux paniers.
 Dans chaque panier, il y a un couple de canards.
 Chaque couple est accompagné de quatre canetons.
Combien d'animaux y a-t-il ?



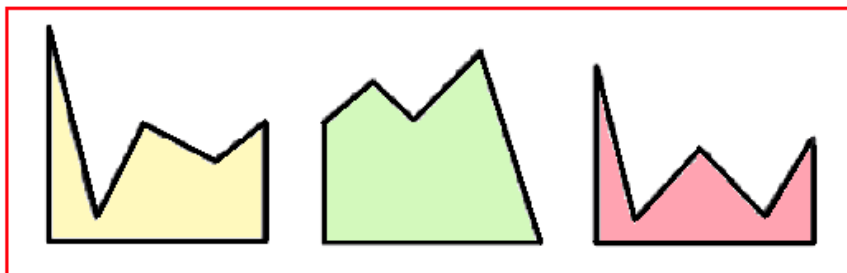
N°2 Nicolas a perdu son masque. Il dit : « Mon masque n'est pas carré. Il n'est pas souriant.
 La forme des yeux est la même que la forme du masque. »
Quelle est la lettre du masque de Nicolas ?






N°3 Combien y a-t-il de cubes dans cette construction ?



N°4 Avec quelle figure doit-on compléter la figure bleue pour obtenir un carré ?



N°5 Observe le prix de chaque lot et trouve le prix du dernier lot.

 9 €	 8 €	 ...?... €
---	---	--