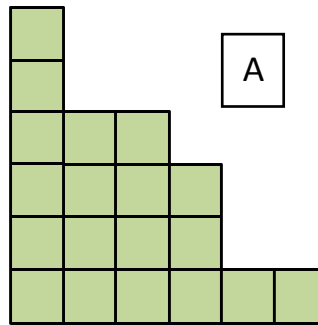
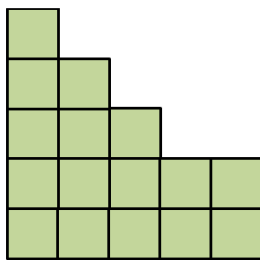


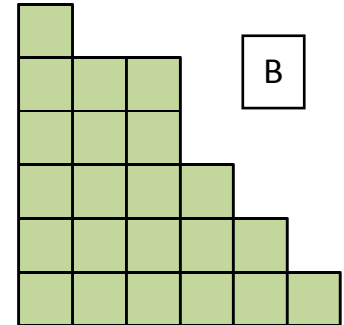
N°1 En insérant des signes + entre certains chiffres, on peut obtenir une somme égale à 99.
Comment faire ?

9 8 7 6 5 4 3 2 1

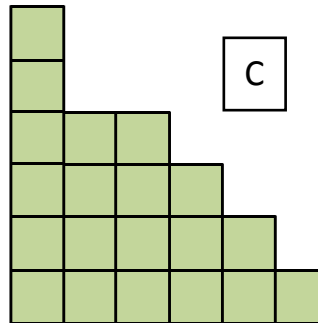
N°2
 Quelle partie faut-il choisir pour compléter le carré ?



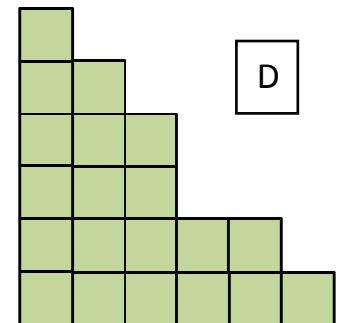
A




B



C



D

N°3  Depuis son premier anniversaire jusqu'à aujourd'hui, Pablo a gardé toutes les bougies de ses gâteaux d'anniversaire. Il a 36 bougies.
Quel âge a Pablo ?

N°4 Bérénice dit : « Avec ces 10 pièces, j'ai formé 5 lignes de 4 pièces chacune ». **Comment a-t-elle disposé les pièces ?**



N°5 Un archéologue a retrouvé une page d'ancien manuscrit. Les deux derniers signes ont été effacés.
Aide-le à compléter la page.

