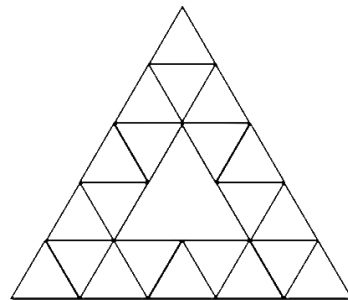
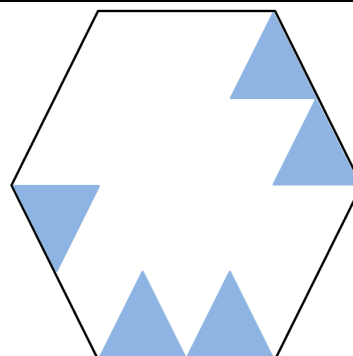


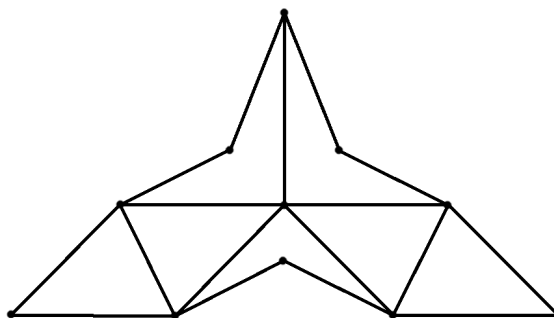
**N°1** Combien de losanges y a-t-il dans cette figure ?




**N°2** Combien faut-il ajouter de triangles bleus pour remplir l'hexagone ?



**N°3** Comment tracer ce vaisseau sans lever le stylo et sans repasser par-dessus un trait déjà tracé ?



**N°4** Coupe l'étoile en trois parties.  
L'addition des nombres de chacune des parties doit donner le même résultat.



**N°5**



« Qui a sifflé ? » demande le maître.

« C'est Louna », dit Nora.

« C'est Liam », dit Jules.

« Ce n'est pas moi », dit Liam.

« Ce n'est pas Liam », dit Louna.

Un seul des quatre enfants dit la vérité.

**Qui a sifflé ?**