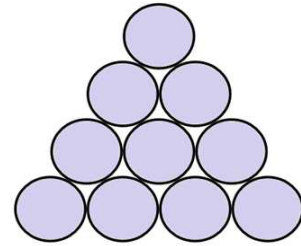
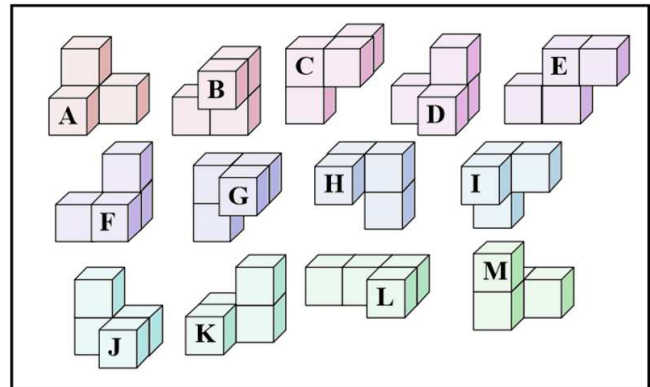
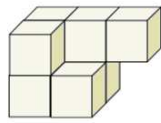


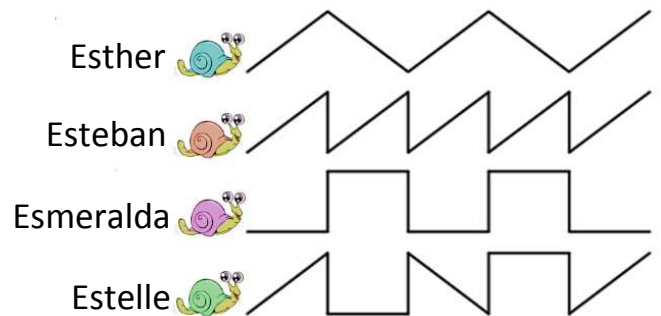
N°1 Nathan dit : « J'ai déplacé 3 jetons et maintenant le triangle est à l'envers. »
Comment a-t-il fait ?



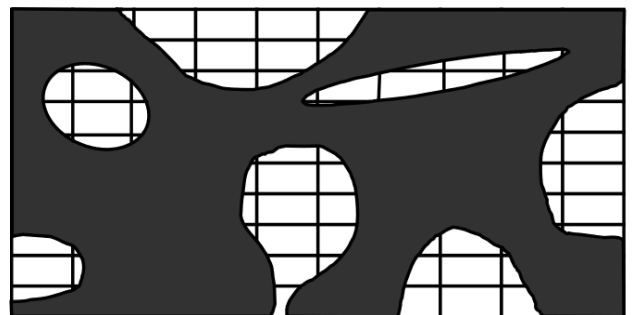
N°2 Quelles pièces peut-on choisir pour compléter le pavé ?



N°3 Voici les trajets de 4 escargots :
Esther a parcouru 25 cm.
Esteban a parcouru 37 cm.
Esmeralda a parcouru 32 cm.
Quelle distance a parcouru Estelle ?



N°4 Pierre a renversé de l'encre sur sa feuille.
Combien de cases sont tachées, même qu'un peu ?



N°5 Jeanne a découpé les cinq pièces de ce puzzle et les a assemblées pour former un rectangle.
Comment a-t-elle procédé ?

