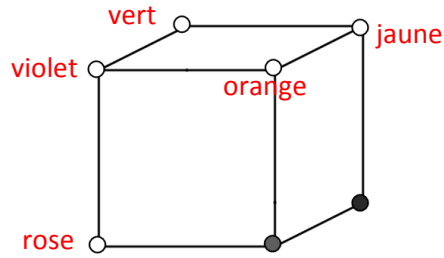




N°1 Colorie les sommets.



.../1

N°2 Le score de la dernière cible est de 42 points.

.../1

N°3 Écris en toutes lettres le chiffre manquant pour que la phrase soit juste.

.../1



N°4 Il y a 14 triangles dans cette figure.

.../1

N°5 L'espion doit répondre quatre

.../1

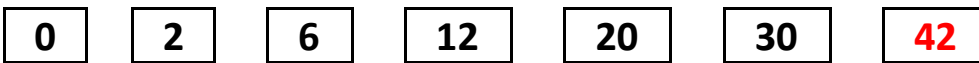


N°1 Nous sommes dimanche

.../1

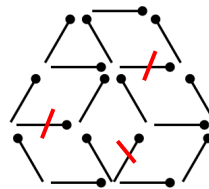
N°2 Complète.

.../1



N°3 Barre les trois allumettes qu'il faut retirer.

.../1



N°4 Il existe 16 combinaisons différentes.

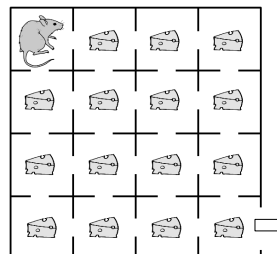
.../1

N°5 Trace le trajet de la souris.

.../1

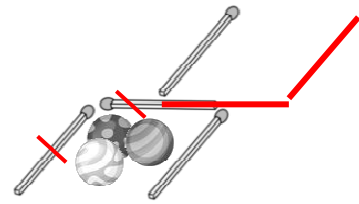
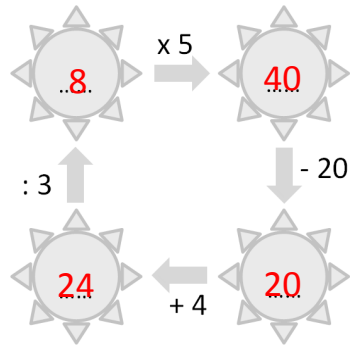
Plusieurs solutions

La souris est obligée de repasser par la pièce de départ.





N°1	5 § 7 = 23	.../1
N°2	Complète.	.../1
N°3	Barre et redessine les allumettes que tu déplaces. 2 solutions possibles	.../1
N°4	Alan voit le dessin D et Dorian voit le dessin D	.../1
N°5	Complète la ligne.	.../1

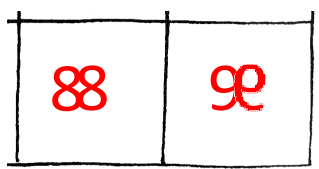



1. 5 10 10 5 1



N°1	Complète.	.../1
N°2	Il faut choisir la partie C	.../1
N°3	Pablo a 8 ans.	.../1
N°4	Dessine les 10 pièces.	.../1
N°5	Dessine les deux derniers symboles.	.../1

9+8+7+65+4+3+2+1





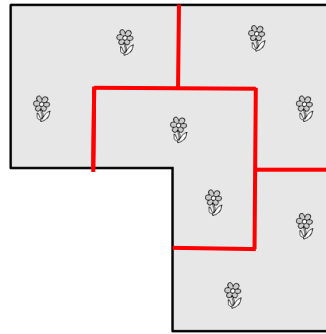
N°1 Il faut ajouter 32 petits cubes.

.../1

N°2 Il y a 7 personnes.

.../1

N°3 Trace les limites des 4 parcelles.



.../1

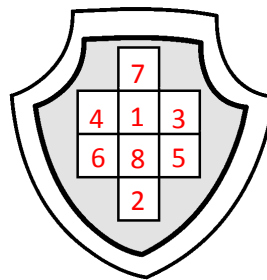
N°4 Place les nombres de 1 à 8.

Plusieurs solutions

1 et 8 sont forcément au centre

7 et 2 sont forcément aux

extrémités



.../1

N°5 49 (48+moi) personnes se rendent au tournoi.

.../1



N°1 Il faut 9 poissons pour remplir le dromadaire.

.../1

N°2 Barre l'allumette que tu retires.

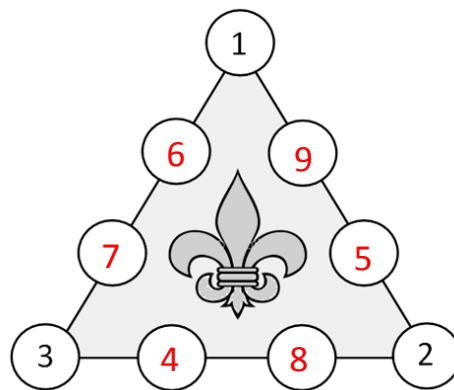


.../1

N°3 Complète.

Plusieurs solutions

Les sommes des trois lignes doivent être égales.



.../1

N°4 Il y a moins de cubes dans la construction 3

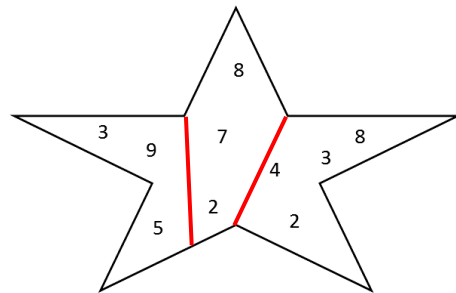
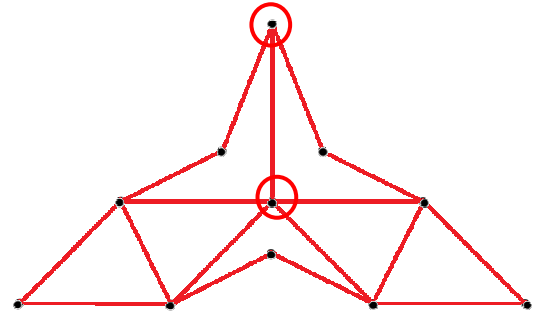
.../1

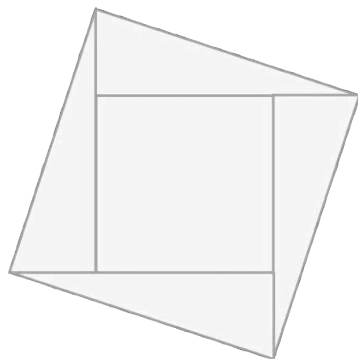
N°5 Lili pense à 790

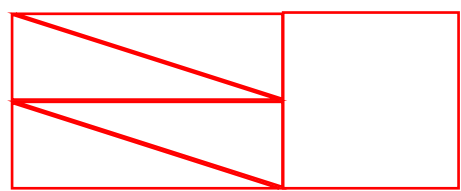
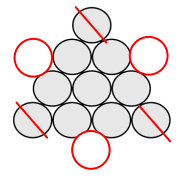
.../1



N°1	Il y a 21 losanges dans cette figure.	.../1
N°2	Il faut ajouter 19 triangles.	.../1
N°3	<p>Trace le papillon en respectant la consigne. Numérote tes traits pour montrer dans quel ordre tu les as tracés.</p> <p>Plusieurs solutions.</p> <p>Points de départ possibles ○</p>	.../1
N°4	<p>Coupe l'étoile en respectant la consigne.</p>	.../1
N°5	C'est Liam qui a sifflé.	.../1



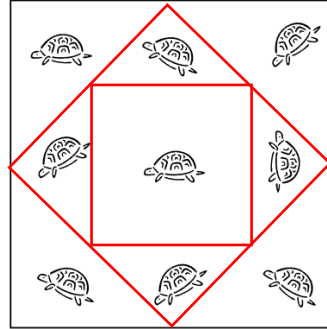
N°1	<p>Barre et redessine les trois jetons que tu déplaces.</p>	.../1
N°2	Pour compléter le pavé, on peut choisir les pièces B, C, F, H, J et M	.../1
N°3	Estelle a parcouru 35 cm.	.../1
N°4	88 cases sont tachées.	.../1
N°5	<p>Découpe le puzzle et colle les pièces.</p>	<p>.../1</p> 





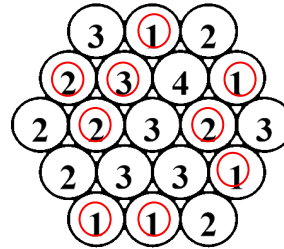
N°1 *Attribue son rôle à chacun.* Axel : **soldat** Bastien : **roi** Colin : **prisonnier** .../1
 Dany : **fou** Enzo : **boureau**

N°2 *Dessine les deux barrières.*



.../1

N°3 *Colorie les billes grises.*



.../1

N°4 Il reste **83** cubes.

.../1

N°5 Il y a **9** livres sur cette étagère.

.../1

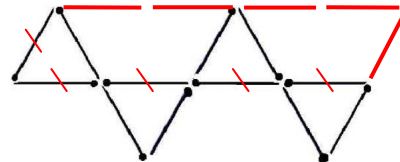


N°1 *Écris la suite.* **13112221** .../1

N°2 Il y a **30** carrés.

.../1

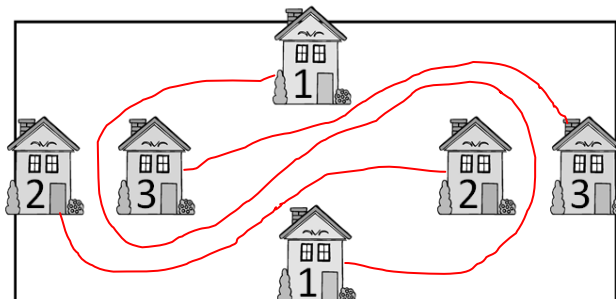
N°3 *Barre et redessine les cinq allumettes que tu déplaces.* .../1
Plusieurs solutions



N°4 *Complète.* .../1

0 1 1 2 3 5 8 13 21

N°5 *Trace les lignes.*



.../1