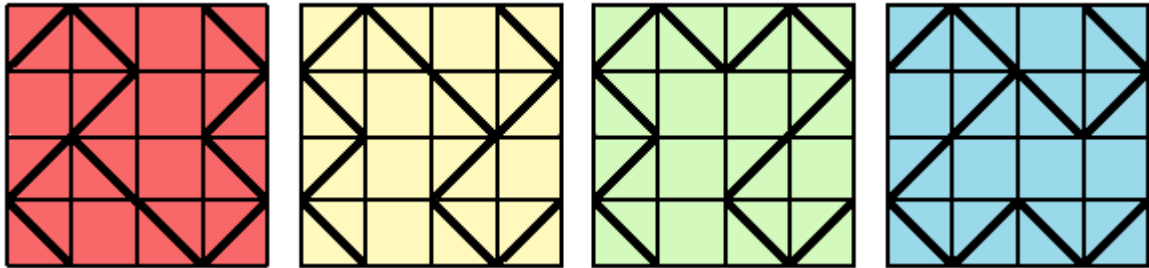


N°1 Quand on fait tourner le dessin rouge, il change de couleur. Quel est l'intrus ?



N°2 Voici les gains des enfants à la fin d'une partie.

● = 100 ● = 50 ● = 20 ● = 10 ● = 5


Clémence : ●●●●●●●●●●●●●●●●

Audrey : ●●●●●●●●●●●●●●●●●●

Dany : ●●●●●●●●●●●●●●●●

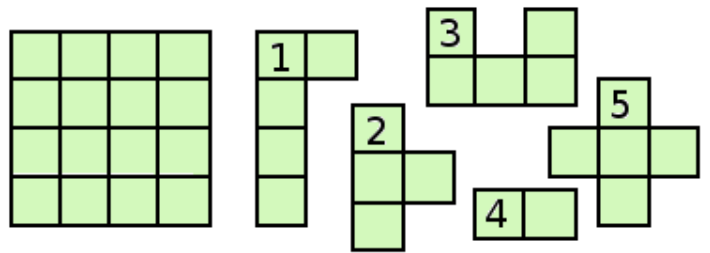
Simon : ●●●●●●●●●●●●●●●●

Qui a gagné ?



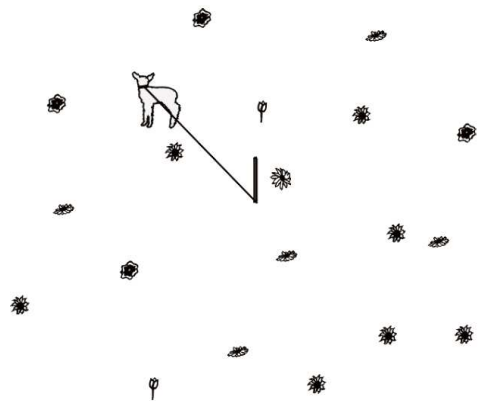
N°3 Le carré a été découpé.

Quelle est la pièce en trop ?



N°4 Voici un mouton dans un pré. il est attaché par une corde à un piquet.

En se déplaçant autour du piquet, combien de fleurs pourra-t-il manger ?



N°5 Le lapereau veut rejoindre sa mère, mais :
 - La somme des nombres sur lesquels il passe doit faire 27.
 - Il ne peut pas passer deux fois sur le même nombre.
 Quel chemin le lapereau va-t-il emprunter ?

