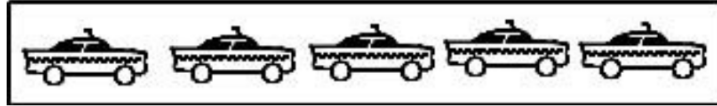





N°1 Retrouve la couleur de chaque voiture.



.../1

N°2 Trace les traits pour couper la cocote en 4 triangles.



.../1

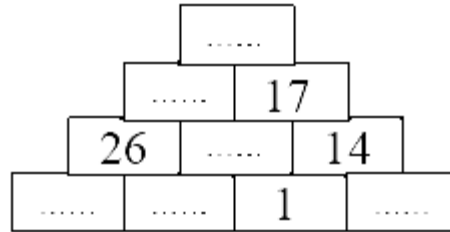
N°3 On voit l'empreinte numéro .....

.../1

N°4 ♥ = ..... ♦ = ..... ♣ = .....

.../1

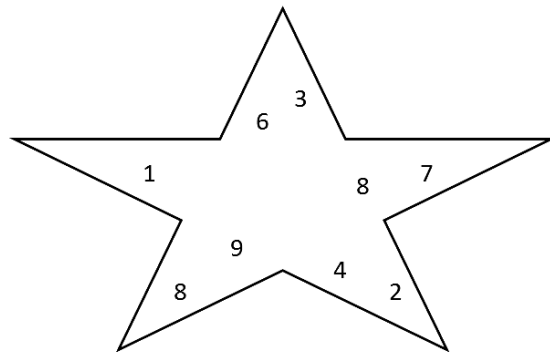
N°5 Complète la pyramide.



.../1



N°1 Coupe l'étoile en respectant la consigne.



.../1

N°2 La carte choisie est la carte .....

.../1

N°3 On peut écrire ..... nombres à trois chiffres.

.../1

N°4 Le message secret est :

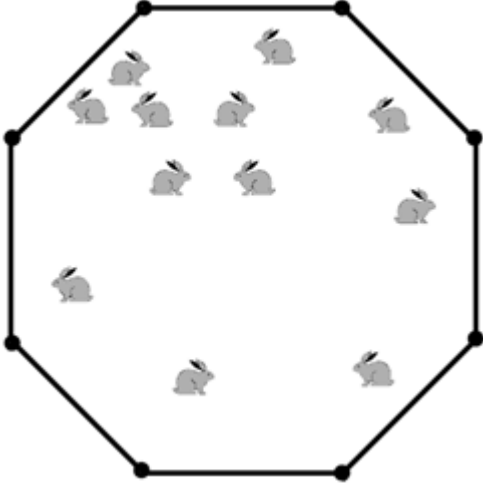
.../1

.....

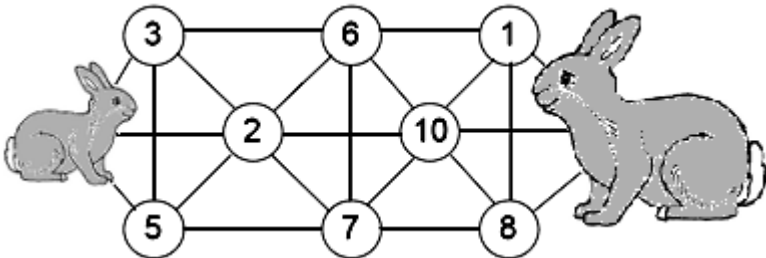
N°5 On voit la construction numéro .....

.../1



N°1	Le gardien a ..... paniers de 10 fruits et ..... paniers de 20 fruits.	.../1
N°2	Le nombre secret est .....	.../1
N°3	Vincent a touché l'objet .....	.../1
N°4	On peut mettre ..... cubes dans la boîte.	.../1
N°5	Trace les deux cordes. 	.../1



N°1	L'intrus est le dessin .....	.../1
N°2	C'est ..... qui a gagné.	.../1
N°3	La pièce en trop est la pièce numéro .....	.../1
N°4	Le mouton pourra manger ..... fleurs.	.../1
N°5	Trace le chemin que le lapereau va emprunter. 	.../1



N°1 J'avais choisi le nombre .....

.../1

N°2 C'est le nombre ..... qui est dans tous les cercles.

.../1

N°3 Il y a ..... cubes.

.../1

N°4 Il y a ..... chemins différents.

.../1

N°5 Complète le Hanjie en te servant de l'exemple.

.../1

	4	1	1	3
1				
4				
2				
2				



N°1 La lettre de la bonne image est .....

.../1

N°2 C'est la souris ..... qui a le moins de chemin à parcourir.

.../1


N°3 Observe la suite, trouve la règle et complète.

.../1

320	160	80	40	20	10	.....
-----	-----	----	----	----	----	-------

N°4 Trace le papillon en respectant la consigne. Numérote tes traits pour montrer dans quel ordre tu les as tracés.








.../1



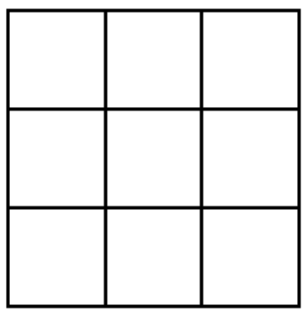




N°5 C'est la cible ..... qui ne remplit pas les conditions.

.../1



N°1	Les enfants ont ..... euros en tout.	.../1
N°2	Le clown a ..... manières différentes de s'habiller.	.../1
N°3	<i>Dessine le nouveau bassin.</i> 	.../1
N°4	 = .....  = .....  = .....  = .....  = .....	.../1
N°5	<i>Trace le tomahawk en respectant la consigne. Numérote tes traits pour montrer dans quel ordre tu les as tracés.</i> 	.../1



N°1	<i>Écris le nom de l'animal sous le numéro de la place.</i> <div style="display: flex; justify-content: space-around; width: 100%;"> <span>1</span> <span>2</span> <span>3</span> <span>4</span> <span>5</span> </div> <div style="display: flex; justify-content: space-around; width: 100%;"> <span>.....</span> <span>.....</span> <span>.....</span> <span>.....</span> <span>.....</span> </div>	.../1
N°2	Nina gagne .....	.../1
N°3	<i>Place les jetons dans les cases en respectant les consignes.</i> 	.../1
N°4	Cela fait ..... poignées de mains.	.../1
N°5	 = .....  = .....  = .....  = .....	.../1



N°1	Dessine la sixième tablette.	.../1
N°2	Dessine les deux allumettes que tu ajoutes.	.../1
N°3	À la fin, il y aura ..... marches dans l'escalier.	.../1
N°4	Il y a ..... rectangles dans la figure.	.../1
N°5	C'est l'escargot ..... qui a fini deuxième.	.../1



N°1	Dans chaque bouquet, il y a ..... fleurs rouges et ..... fleurs jaunes.	.../1
N°2	L'image du miroir est l'image .....	.../1
N°3	<p>Écris les numéros des voitures dans l'ordre de leur arrivée.</p> <p>Première voiture ..... Dernière voiture .....</p> <p>.....</p>	.../1
N°4	Complète le dernier carré.	.../1
N°5	Il y a moins de triangles dans la figure .....	.../1