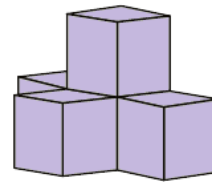



N°1 Combien y a-t-il de cubes dans cette construction ?



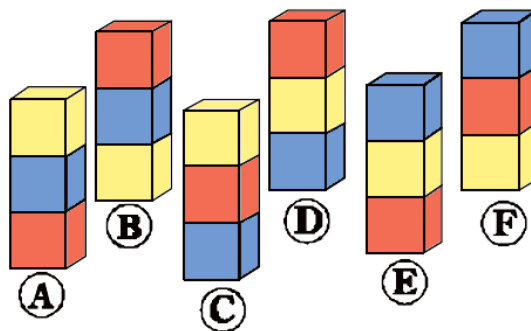
N°2 Colorie les carrés qui sont à l'intérieur du cercle et à l'extérieur du rectangle.

Combien de carrés as-tu coloriés ?



N°3 Les enfants ont fait des piles de cubes.
Laura dit : « Dans ma pile de cubes :
Le bleu est au-dessus du jaune.
Le jaune est au-dessus du rouge. »

Quelle est la pile de Laura ?



2 girafes se rendent au point d'eau.
Chaque girafe porte 3 singes sur son dos.
Chaque singe a 2 oiseaux sur la queue.
Chaque oiseau sert de perchoir à 1 mouche.

Combien d'animaux se rendent au point d'eau ?

N°5 Aide la chenille à se déguiser en coloriant
3 de ses anneaux.
Quand on additionne les 3 anneaux
coloriés, le total doit faire 23.

