



**N°1** Trace 2 carrés et 2 rectangles en utilisant une seule fois tous les points.



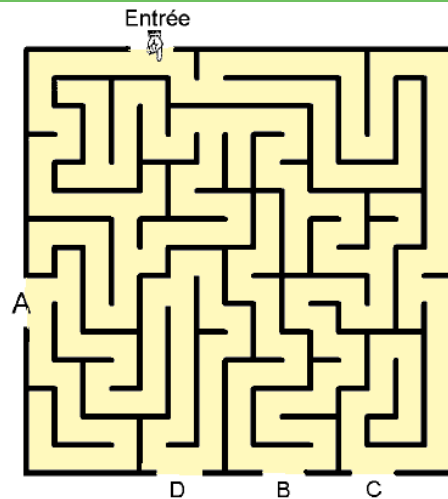
**N°2** De combien de morceaux noirs est fait ce papillon ?



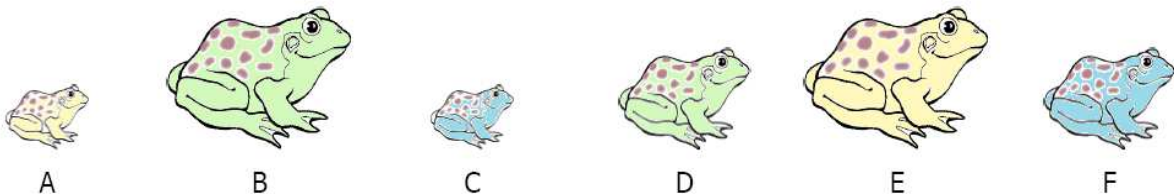
**N°3** La somme des nombres de chaque parchemin doit être la même. Quels sont les nombres qui manquent ?



**N°4** Quelles sont les portes qui permettent de sortir de ce labyrinthe ?



**N°5** Croa la grenouille se cache ici. Elle n'est pas petite. Elle n'est pas bleue. Elle n'est pas grosse.



Quelle est la lettre de Croa la grenouille ?