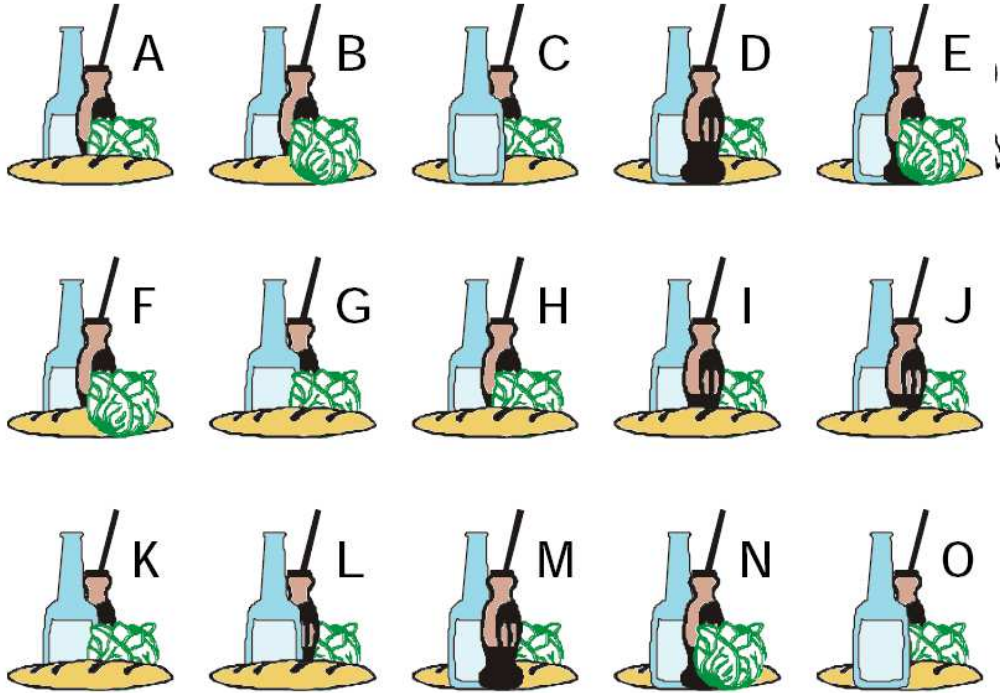


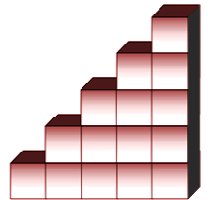
N°1 Tous les dessins vont par deux sauf un. **Lequel ?**




N°2 Observe la suite, trouve la règle et complète.



N°3 Combien faut-il ajouter de cubes pour construire deux autres marches à cet escalier ?



N°4 J'ai collé des gommettes de formes différentes sur ma feuille.
Dans quel ordre les ai-je collées ?



N°5 Le mur du jardin est cassé.

Combien faut-il de briques pour le réparer ?

